


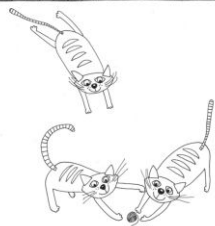


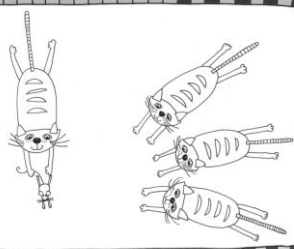














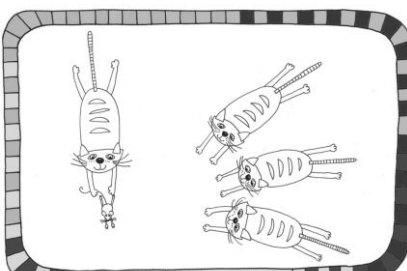



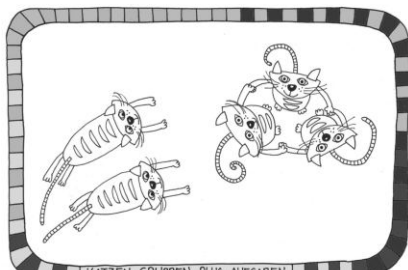




# Katzengruppenplusaufgaben

1.  Schreibe die Plusaufgaben unter die Bilder.
2.  Zeichne selbst zwei Bilder und  schreibe die Aufgaben darunter.

 <p>KATZEN-GRUPPEN-PLUS-AUFGABEN</p> <p><math>2 + 1 =</math></p>	 <p>KATZEN-GRUPPEN-PLUS-AUFGABEN</p>	 <p>KATZEN-GRUPPEN-PLUS-AUFGABEN</p>
 <p>KATZEN-GRUPPEN-PLUS-AUFGABEN</p>	 <p>KATZEN-GRUPPEN-PLUS-AUFGABEN</p>	 <p>KATZEN-GRUPPEN-PLUS-AUFGABEN</p>
 <p>KATZEN-GRUPPEN-PLUS-AUFGABEN</p>	 <p>KATZEN-GRUPPEN-PLUS-AUFGABEN</p>	 <p>KATZEN-GRUPPEN-PLUS-AUFGABEN</p>
 <p>KATZEN-GRUPPEN-PLUS-AUFGABEN</p>	<p>KATZEN-GRUPPEN-PLUS-AUFGABEN</p>	<p>KATZEN-GRUPPEN-PLUS-AUFGABEN</p>

# Katzengruppenplusaufgaben

1.  Schreibe die Ergebnisse der Plusaufgaben unter die Bilder.
2.  Zeichne selbst zwei Bilder und  schreibe die Aufgaben darunter.

 <p>KATZEN-GRUPPEN-PLUS-AUFGABEN</p> $2 + 1 =$	 <p>KATZEN-GRUPPEN-PLUS-AUFGABEN</p> $1 + 2 =$	 <p>KATZEN-GRUPPEN-PLUS-AUFGABEN</p> $3 + 1 =$
 <p>KATZEN-GRUPPEN-PLUS-AUFGABEN</p> $1 + 3 =$	 <p>KATZEN-GRUPPEN-PLUS-AUFGABEN</p> $0 + 4 =$	 <p>KATZEN-GRUPPEN-PLUS-AUFGABEN</p> $2 + 2 =$
 <p>KATZEN-GRUPPEN-PLUS-AUFGABEN</p> $3 + 1 =$	 <p>KATZEN-GRUPPEN-PLUS-AUFGABEN</p> $3 + 2 =$	 <p>KATZEN-GRUPPEN-PLUS-AUFGABEN</p> $1 + 4 =$
 <p>KATZEN-GRUPPEN-PLUS-AUFGABEN</p> $3 + 3 =$	 <p>KATZEN-GRUPPEN-PLUS-AUFGABEN</p>	 <p>KATZEN-GRUPPEN-PLUS-AUFGABEN</p>